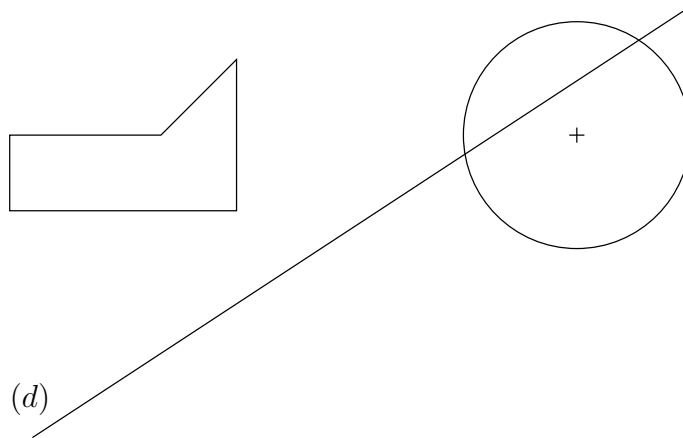


Nom
Prénom

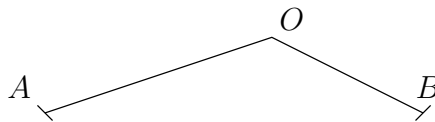
Contrôle n° 3-2 - 3ème trimestre
Ne pas oublier les codages sur les figures

Exercice 1 (Cours - 2 points) *Qu'est-ce que la médiatrice du segment $[MN]$?*

Exercice 2 (Symétrie - 4 points) *Faire le symétrique de chaque figure ci-dessous par rapport à la droite (d) .*



Exercice 3 (Médiatrice et bissectrice - 4 points) *Tracer la médiatrice de $[AO]$ et la bissectrice de \widehat{AOB} .*

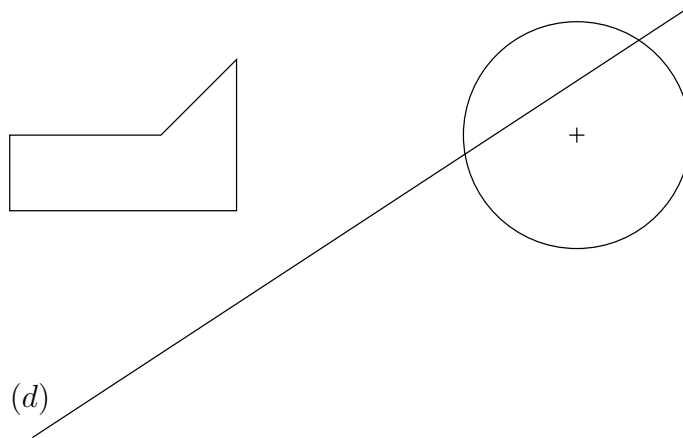


Nom
Prénom

Contrôle n° 3-2 - 3ème trimestre
Ne pas oublier les codages sur les figures

Exercice 1 (Cours - 2 points) *Qu'est-ce que la médiatrice du segment $[MN]$?*

Exercice 2 (Symétrie - 4 points) *Faire le symétrique de chaque figure ci-dessous par rapport à la droite (d) .*



Exercice 3 (Médiatrice et bissectrice - 4 points) *Tracer la médiatrice de $[AO]$ et la bissectrice de \widehat{AOB} .*

