

Symétrie axiale

12 février 2008

Résumé

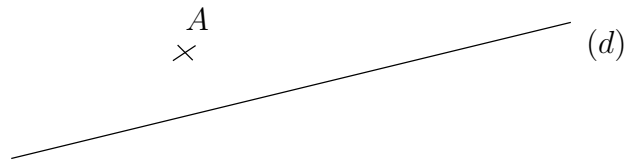
Diagnostic permettant de vérifier si les élèves ont les prérequis nécessaires pour aborder la symétrie axiale.

Matériel :

- règle non graduée
- papier calque
- équerre, compas

Exercice 1

Tracez la perpendiculaire à la droite (d) passant par le point A .

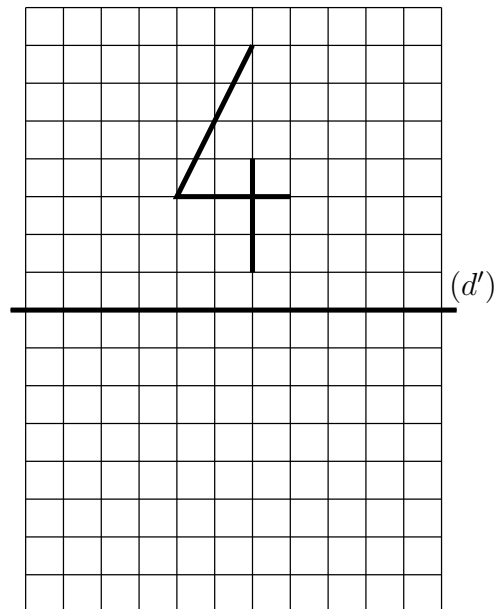
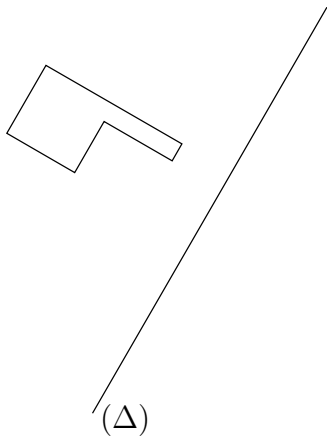


Exercice 2

Placez un point C sur la droite (d_1) tel que $AB = BC$.



Exercice 3



Avec le papier calque trace le symétrique de cette figure par rapport à (Δ) .

En t'aidant du quadrillage, trace le symétrique de cette figure par rapport à (d') .